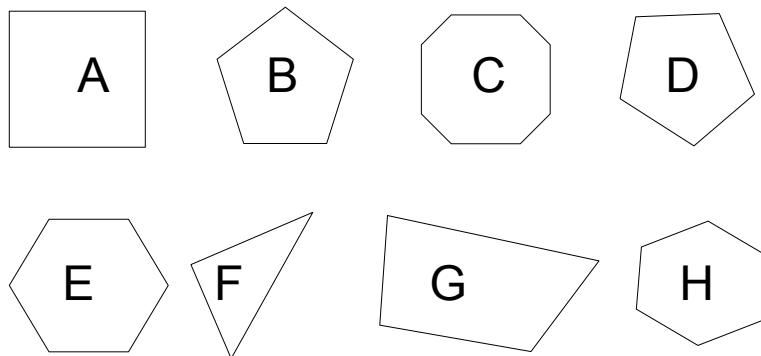


Géométrie

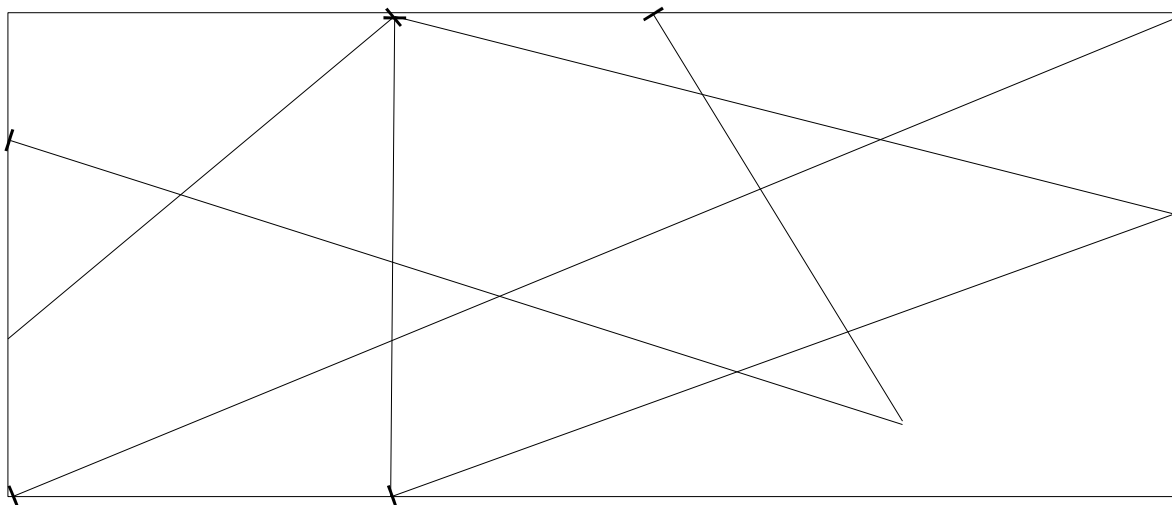
Objectif : Classifier les polygones

1 – Observe bien les polygones et réponds ensuite aux questions.



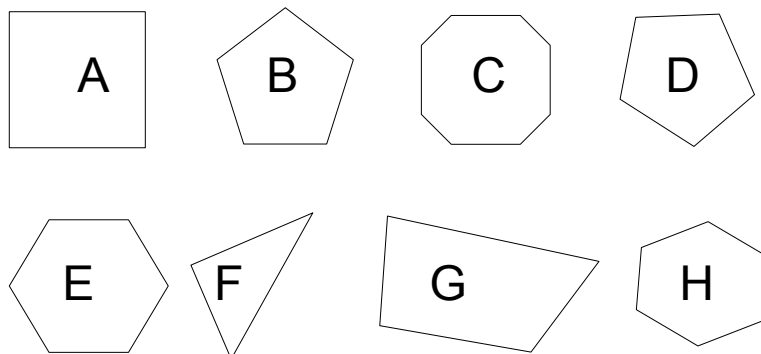
		Nombre de côtés
Quels sont les triangles ?		
Quels sont les quadrilatères ?		
Quels sont les pentagones ?		
Quels sont les hexagones ?		
Quels sont les octogones ?		

2 – Et maintenant, peux-tu attribuer une couleur à chaque type de polygones ?
Colorie ensuite leurs noms dans le tableau ci-dessus et applique les mêmes couleurs aux polygones que tu découvres dans le rectangle ci-dessous.



Corrigé

1 – Observe bien les polygones et réponds ensuite aux questions.



		Nombre de côtés
Quels sont les triangles ?	F	3
Quels sont les quadrilatères ?	A - G	4
Quels sont les pentagones ?	B - D	5
Quels sont les hexagones ?	E - H	6
Quels sont les octogones ?	C	8

2 – Et maintenant, peux-tu attribuer une couleur à chaque type de polygones ?
Colorie ensuite leurs noms dans le tableau ci-dessus et applique les mêmes couleurs aux polygones que tu découvres dans le rectangle ci-dessous.

